

Calculator :

$$2 - 2 \times 3$$

Correction :

$$2 - 2 \times 3$$

$$2 - 6$$

$$-4$$

La multiplication est prioritaire.

Calculator :

$$\frac{-81}{-9}$$

Correction :

$$\frac{-81}{-9} = 9$$


Le quotient de
deux nombres
négatifs est positif.



Quand je monte de 20 marches , je m'élève
de 100 cm.

Quand je monte de 5 marches , je m'élève
de ? cm.

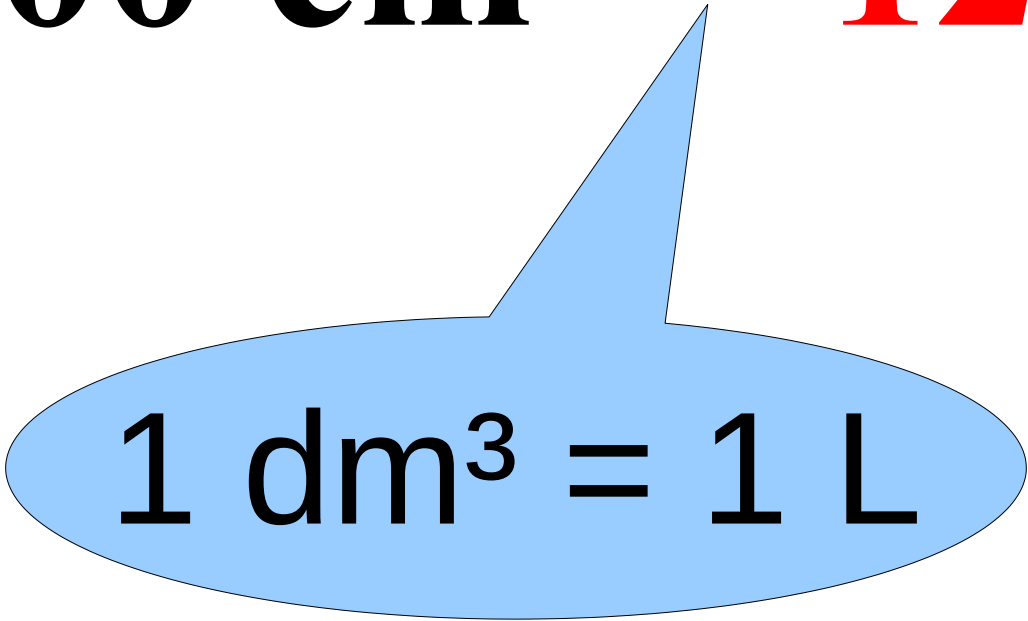
Correction :



$$12\ 000\ \text{cm}^3 = \dots\dots\dots \text{L}$$

Correction :

$$12\ 000\ \text{cm}^3 = 12\ \text{L}$$

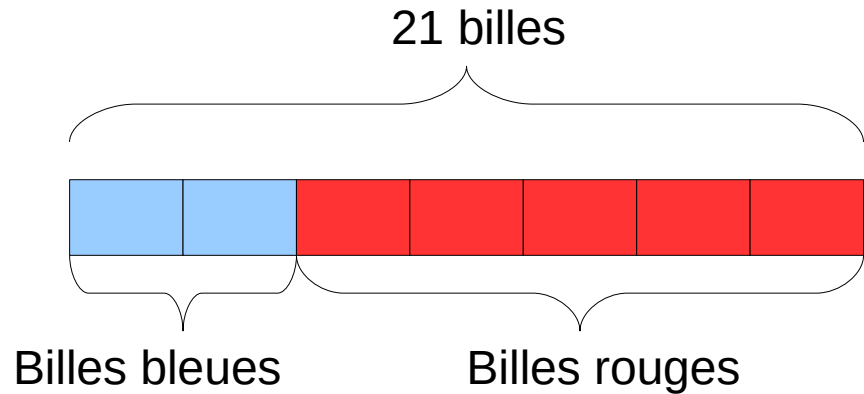

$$1\ \text{dm}^3 = 1\ \text{L}$$

Polo possède 21 billes.

**Il possède des billes rouges et bleues
dans le ratio 5 : 2.**

**Combien a-t-il de billes bleues et de
billes rouges ?**

Correction :



$$21 \div 7 = 3.$$

Il y a donc $2 \times 3 = 6$ billes bleues.

Il y a donc $5 \times 3 = 15$ billes rouges.

Quel nombre est le plus grand ?

$$\frac{4}{3}$$

$$\frac{11}{13}$$

Correction :

Comme : $\frac{4}{3} > 1$ et $\frac{11}{13} < 1$

alors : $\frac{4}{3} > \frac{11}{13}$