

Calculator

$$6 - 15$$

Correction

$$6 - 15 = -9$$

Calculator

— 6 — 14

Correction

$$- 6 - 14 = - 20$$

Calculator

$$- 6 - (-14)$$

Correction

$$-6 - (-14)$$

$$-6 + 14$$

8

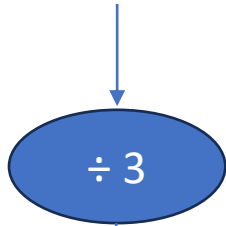


Polo court à une vitesse constante de 12 km/h.

Quelle distance parcourt-il en 20 min ?

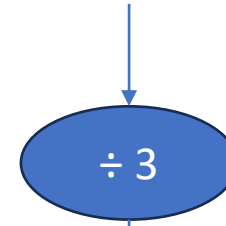
Correction

12 km



4 km

1 h = 60 min



20 min



Raquette de
tennis 25 €

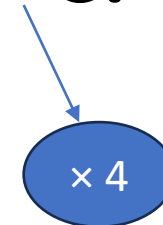
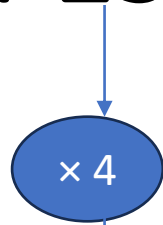


La baisse représente un rabais de 20 %.

VRAI OU FAUX ?

Correction

Sur 25 €, la baisse est de 5 €.



Ainsi sur 100 €, la baisse serait de 20 €.

Donc le pourcentage de réduction est de 20 %.

Donc l'affirmation est **VRAIE**.