

**Calculator :**

$$13,1 \times 10$$

**Correction :**

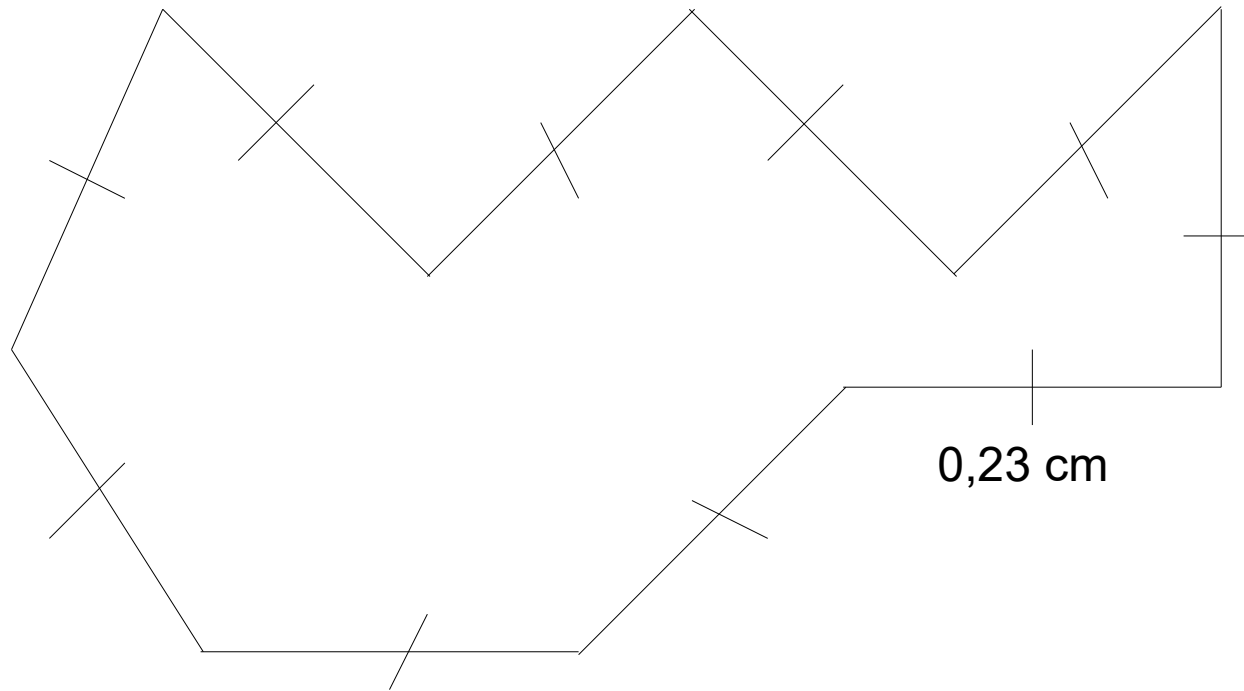
$$13,1 \times 10 = 131$$

**Calculator :**

$$41,9 \times 0,01$$

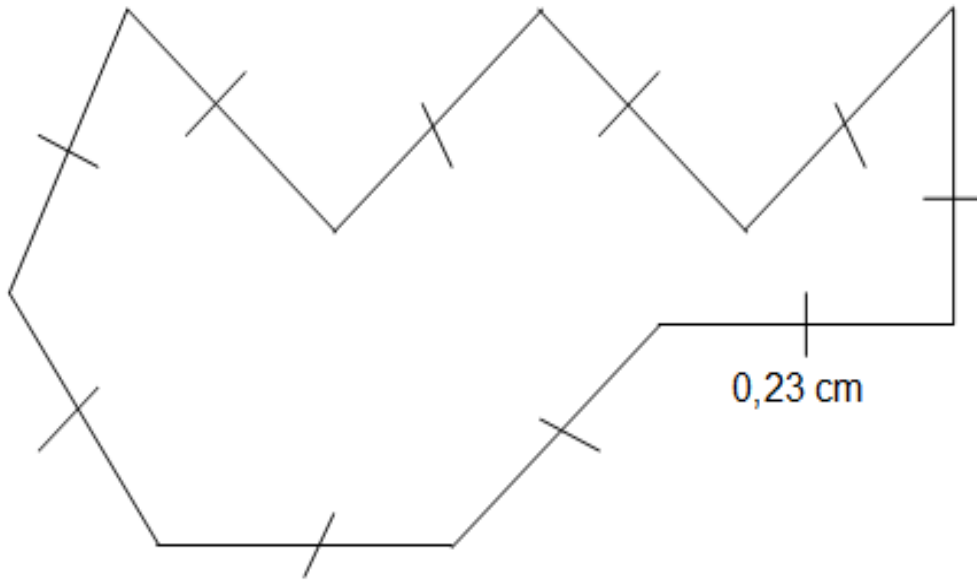
**Correction :**

$$41,9 \times 0,01 = 0,419$$



**Quel est le périmètre de la figure ?**

# Correction :




**Le périmètre de la figure  
est égal à :**

$$10 \times 0,23 = 2,3 \text{ cm}$$



**Quel est le périmètre du rectangle ?**

# Correction :



Le périmètre du rectangle est égal à :

$$P = 2 \times (5,8 + 3,2)$$

$$P = 2 \times 9$$

$$P = \mathbf{18 \text{ cm.}}$$



**Donner l'écriture décimale de :**

$$14\frac{1}{100}$$

# Correction :

$$14 - \frac{1}{100} = 14 - 0,01 = 13,99$$