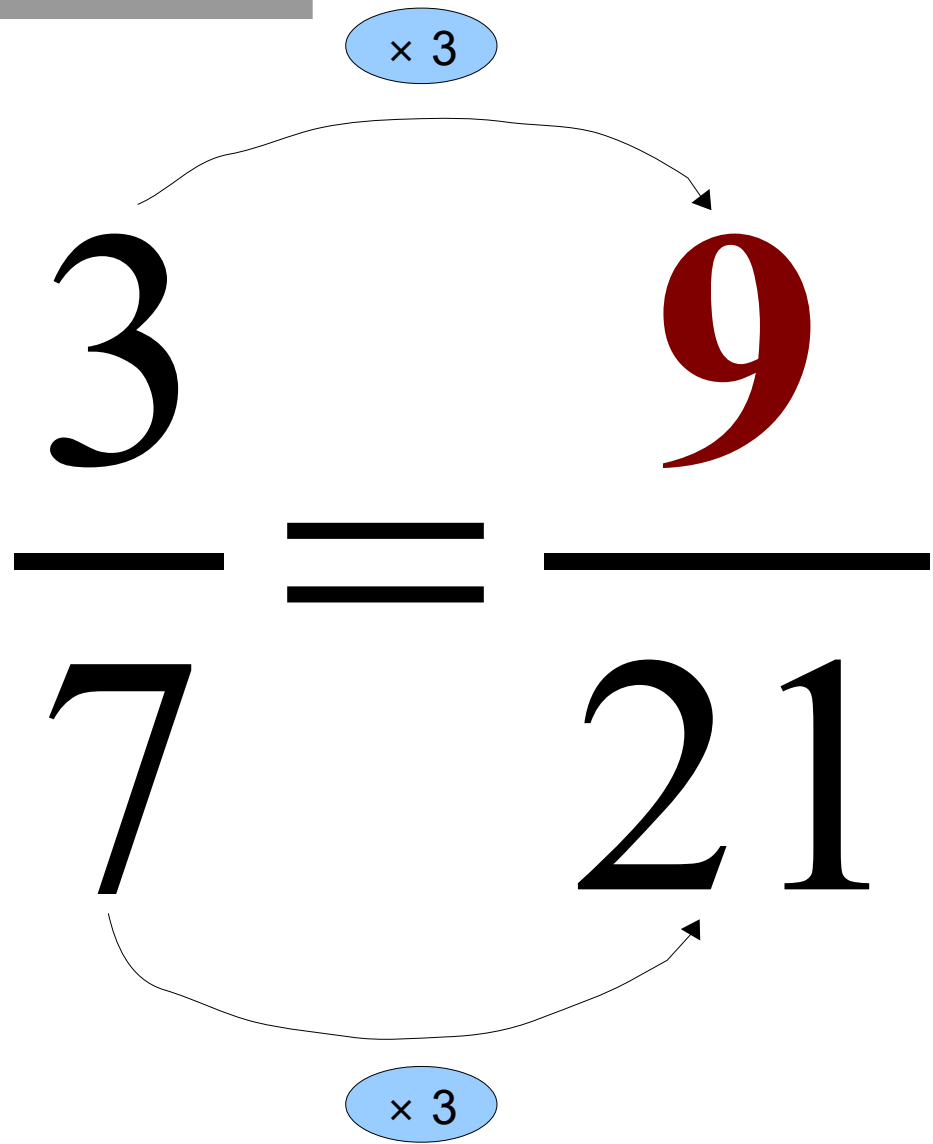


$$\frac{3}{7} = \frac{\dots}{21}$$

Correction :



**Polo achète 6 stylos identiques
à 1,30 € l'unité.**

Combien dépense-t-il ?

Correction :

$$6 \times 1,3 = 7,8$$

Il dépense 7,80 € .

Dans une recette de cuisine, il faut 30 cL de lait et 20 g de farine.

Quelle quantité de farine faut-il pour 45 cL de lait ?

Correction :

30 cL de lait → 20 g de farine

15 cL de lait → 10 g de farine

45 cL de lait → 30 g de farine

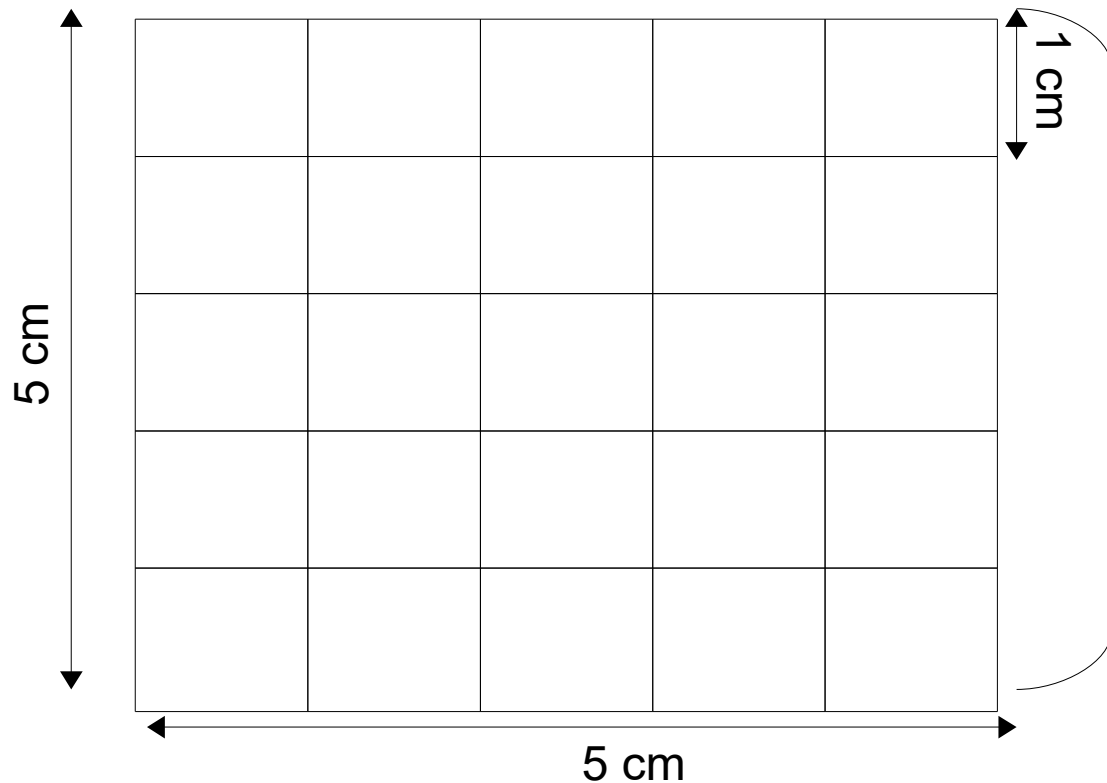
**Quelle est l'aire d'un carré
de côté 5 cm ?**

Correction :

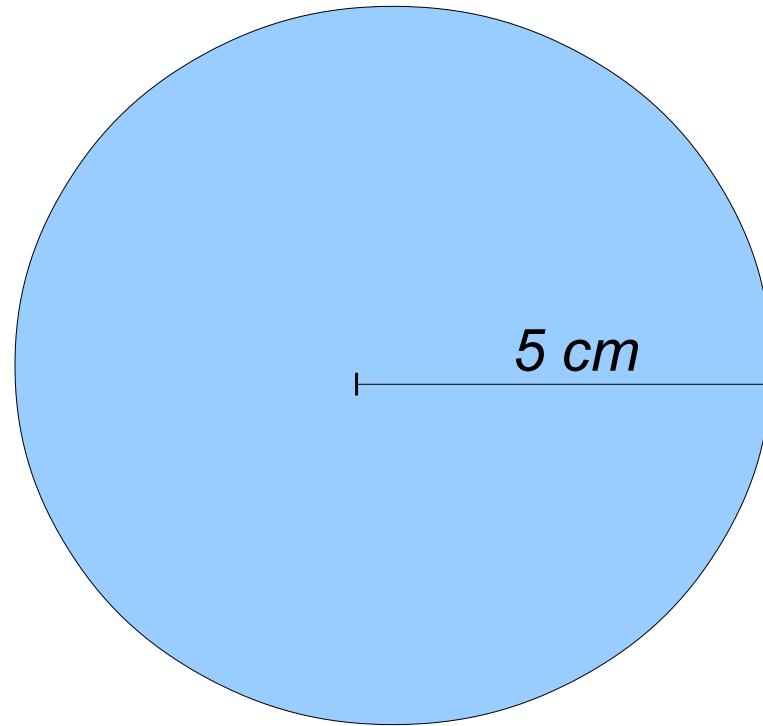
L'aire d'un carré de côté

5 cm est égale à :

$$5 \times 5 = 25 \text{ cm}^2.$$

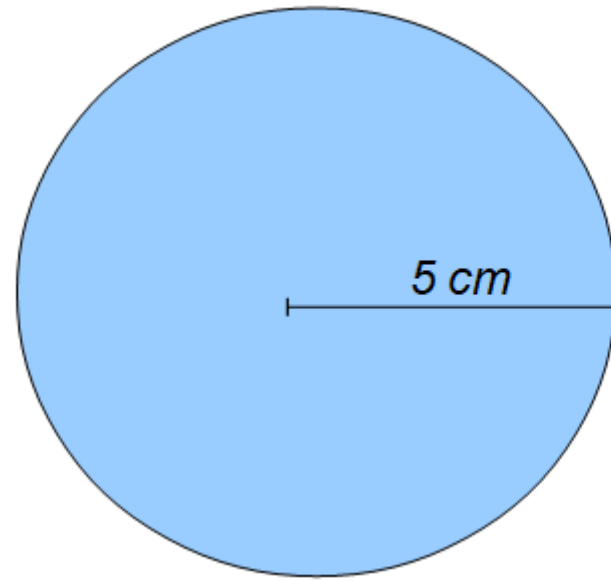


Il y a 25 carrés de 1cm²d'aire.



Quelle est la longueur du cercle ?

Correction :



La longueur du cercle est égale à :

$$L = 2 \times \pi \times R$$

$$L = 2 \times \pi \times 5$$

$$L = \mathbf{10\pi} \text{ cm}$$

Calculator :

$$89 \times 56 - 89 \times 55$$

Correction :

$$89 \times 56 - 89 \times 55$$

$$89 \times (56 - 55)$$

$$89 \times 1$$

$$89$$