

Les bouteilles sont vendues  
par pack de 6. Je dois  
acheter 36 bouteilles.

**Combien de packs  
dois-je acheter ?**

**Correction :**

$$6 \times 6 = 36$$

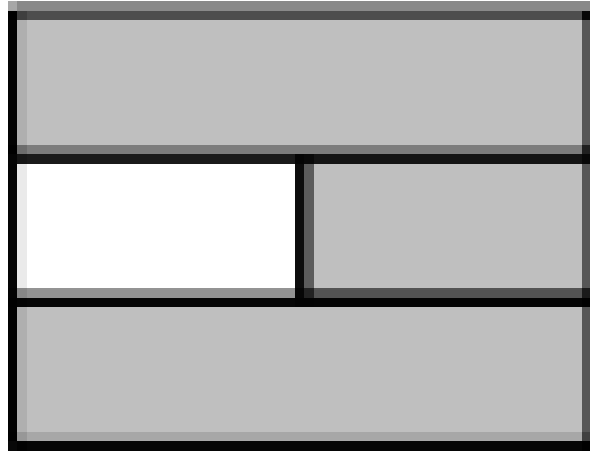
**Je dois acheter**  
**6 packs.**

**Calculer :**

$$0,3 + 0,9$$


**Correction :**

$$0,3 + 0,9 = 1,2$$



**Quelle est la fraction de  
l'aire du rectangle qui  
est grisée ?**

# Correction :

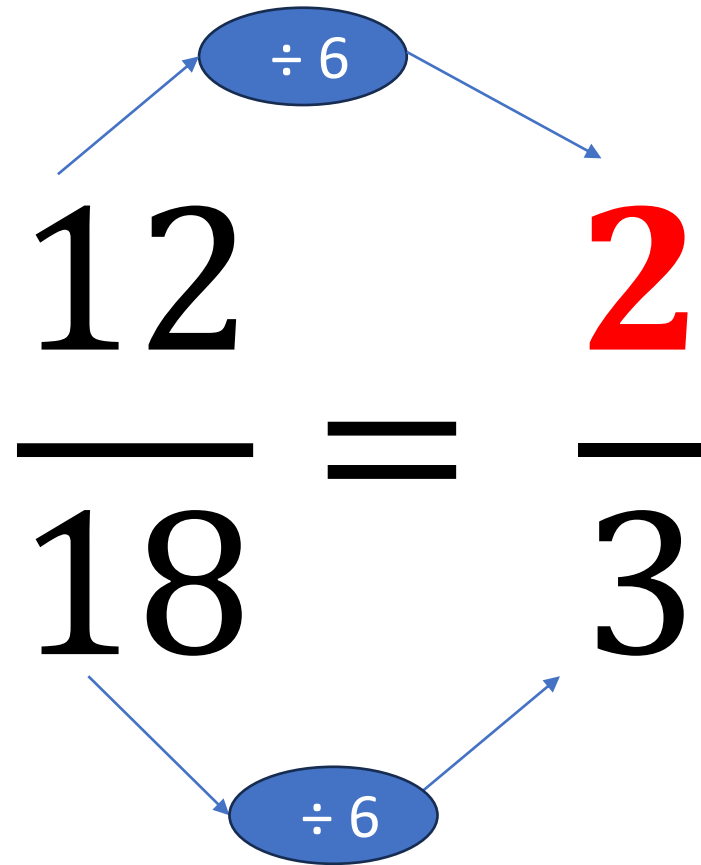


La fraction de l'aire du rectangle qui est grisée est  $\frac{5}{6}$ .

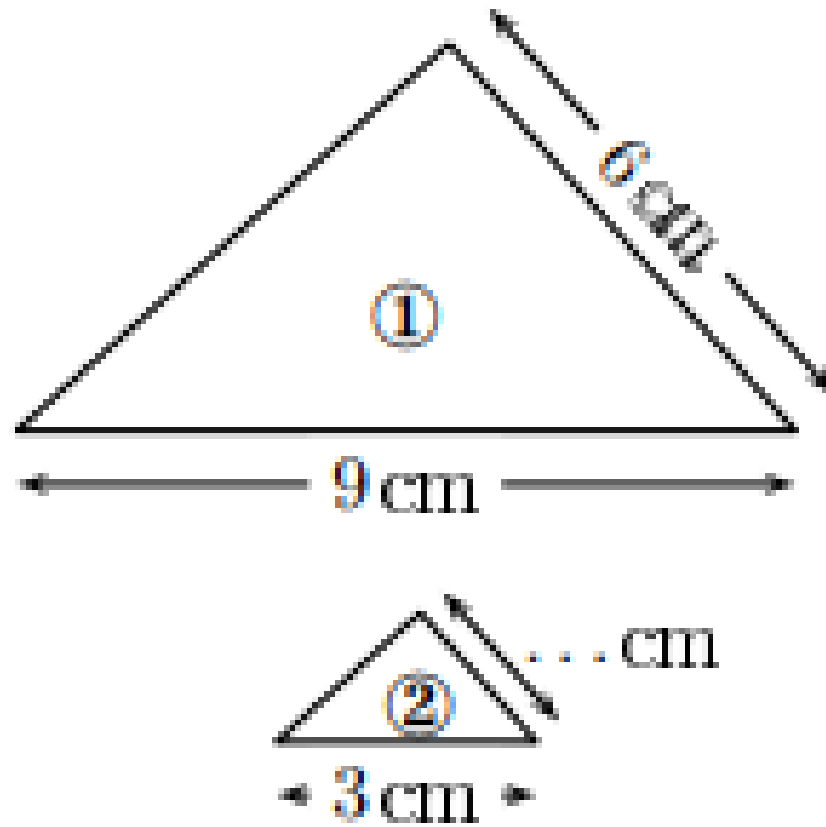
# Compléter :

$$\frac{12}{18} = \frac{?}{3}$$

# Correction :







Le triangle 1 est un agrandissement du triangle 2.

**Compléter la longueur manquante.**

# Correction :

